



केन्द्रीय रिजर्व पुलिस बल CENTRAL RESERVE POLICE FORCE

Test Date	01/03/2023
Test Time	12:30 PM - 02:00 PM
Subject	Head Constable Ministerial

Section : Hindi Language

Q.1 यदि 'अपराध' का अर्थ कानून की निगाह में दुष्कृति है तो 'पाप' का आशय स्पष्ट करें-

- Ans
- A. अनिष्ट कार्य करना
 - B. धार्मिक ईश्वरीय नियमों की नज़र में की गयी दुष्कृति
 - C. दुस्साहस करना
 - D. पुलिस की निगाह में आया हुआ दुष्कार्य

Question ID : 630680180211

Status : Answered

Chosen Option : B

Q.2 निम्नलिखित में से 'कटक' के पर्यायवाची शब्द का चयन कीजिए-

- Ans
- A. सत्र
 - B. सामी
 - C. सेना
 - D. सेतु

Question ID : 630680180210

Status : Answered

Chosen Option : C

Q.3 निम्नलिखित वाक्य-खण्डों के शुद्ध क्रम में व्यवस्थित विकल्प का चयन करें, पहला खंड दिया गया है—

(1) पहले का देशकाल

(क) परन्तु लिखने वालों का (ख) साहित्य भी बदला है (ग) बदल गया है, (घ) दायरा ज्यादा नहीं फैला

- Ans
- A. ग घ क ख
 - B. ख ग क घ
 - C. ग क ख घ
 - D. ग ख क घ

Question ID : 630680180223

Status : Answered

Chosen Option : A

Q.4 उचित शब्द चुनकर वाक्य में रिक्त स्थान की पूर्ति करें-

'सभी धर्मों में _____ प्रवणता को महत्त्व दिया जाता है।'

- Ans
- A. व्यवहार
 - B. सत्कार
 - C. अचार
 - D. सद्गति

Question ID : 630680180221

Status : Answered

Chosen Option : D

Q.5 निम्नलिखित में से शुद्ध पदक्रम वाले वाक्य का चयन करें-

- Ans
- A. पत्रकार को अधिक महत्त्व रचनाकार से भी दिया जाता है कि यह विचित्र स्थिति है
 - B. कबीर उल्लेखित आदर्श अपनी ही कविता के समान हैं
 - C. मनुष्य ताना-बाना सुन्दर कल्पनाओं का बुनता रहता है
 - D. पंतजी का काव्य हमारे लिए प्रश्न भी उपस्थित करता है

Question ID : 630680180219

Status : Answered

Chosen Option : D

Q.6 निम्नलिखित खण्डों के उचित क्रम का चयन कर सही लोकोक्ति की पहचान करें –

तापने को

फूस

नहीं,

कोयला

जलाने को

- Ans
- A. जलाने को नहीं, तापने को फूस कोयला
 - B. कोयला नहीं, फूस को तापने को जलाने को
 - C. जलाने को कोयला नहीं, तापने को फूस
 - D. जलाने को फूस नहीं, तापने को कोयला

Question ID : 630680180217

Status : Answered

Chosen Option : D

Q.7 उचित शब्द चुनकर वाक्य में रिक्त स्थान की पूर्ति करें-
'अनर्गल _____ मत करो।'

- Ans
- A. संताप
 - B. विलाप
 - C. अलाप
 - D. प्रलाप

Question ID : 630680180220
Status : Answered
Chosen Option : C

Q.8 उपयुक्त विकल्प चुनकर 'अधिकरण कारक' में वाक्य पूर्ण करें-
'सोहन _____ है।'

- Ans
- A. पेड़ से कूदा
 - B. मेरा भाई
 - C. बच्चे को मारता है
 - D. छत पर

Question ID : 630680180228
Status : Answered
Chosen Option : D

Q.9 उपयुक्त शब्द चुनकर वाक्य में रिक्त स्थान की पूर्ति करें-
आलोचकों के _____ हमें अपनी विदेश नीति में परिवर्तन करना चाहिए।

- Ans
- A. अनुसार
 - B. अनुरूप
 - C. लिए
 - D. अनुसृत

Question ID : 630680180222
Status : Answered
Chosen Option : D

Q.10 आप मियाँ जी माँगते, द्वार खड़े काजी - लोकोक्ति में रेखांकित शब्द अशुद्ध है। उचित शब्द चुनकर लोकोक्ति को शुद्ध रूप दें।

- Ans
- A. परदेश
 - B. महाराज
 - C. मुल्लाजी
 - D. दरवेश

Question ID : 630680180216
Status : Answered
Chosen Option : D

Q.11 'मै तो स्वेटर _____, लेकिन आप?।' तात्कालिक वर्तमान काल की क्रिया चुनकर वाक्य पूर्ण करें-

- Ans
- A. पहनता हूँ
 - B. पहन चुका हूँ
 - C. पहने हुए हूँ
 - D. पहना है

Question ID : 630680180227

Status : Answered

Chosen Option : C

Q.12 'उसका संग्रह प्रदर्शित _____।' - 'अपूर्ण भूत काल की क्रिया का चयन करके रिक्त स्थान की पूर्ति करें-

- Ans
- A. हो गया होगा
 - B. हो गया
 - C. हो रहा था
 - D. हो चुका होगा

Question ID : 630680180226

Status : Answered

Chosen Option : C

Q.13 रेखांकित वाक्यांश को एक उपयुक्त शब्द से प्रतिस्थापित करें -
'जिसका परिमाण न जाना जा सके'

- Ans
- A. अचल
 - B. अप्रमेय
 - C. परिमाणहीन
 - D. अपरिमेय



INDIA

Question ID : 630680180225

Status : Answered

Chosen Option : D

Q.14 'दलदल में हाथ रखना'-इस मुहावरे का रेखांकित अंश अशुद्ध है। सही भाग का चयन करें-

- Ans
- A. हाथ तोड़ना
 - B. पाँव फँसना
 - C. हाथ फँसना
 - D. पाँव तोड़ना

Question ID : 630680180214

Status : Answered

Chosen Option : B

Q.15 निम्नलिखित वाक्य-खण्डों के शुद्ध क्रम में व्यवस्थित विकल्प का चयन करें -
(क) विशिष्ट अभिव्यक्ति अलंकारों से (ख) कविता की यह (ग) झंकृतियों में नर्तन करती है (घ) विभूषित होकर छंदों की

- Ans A. ख घ ग क
 B. घ ग क ख
 C. क ख घ ग
 D. ख क घ ग

Question ID : 630680180224
Status : Answered
Chosen Option : D

Q.16 निम्नलिखित में से शुद्ध पदक्रम वाले वाक्य का चयन करें-

- Ans A. मुझे आपके कहने के अनुसार चलने में कोई आपत्ति नहीं है
 B. आवंटन का भूखंडों के कार्य अभी जारी है
 C. इस मंदिर का श्याम बाबू ने किया शिलान्यास
 D. आजीवन व्रत रखा स्वयं सेवकों ने

Question ID : 630680180218
Status : Answered
Chosen Option : A

Q.17 'किसान ने दूसरे की जमीन में ____।' - 'प्रेरणार्थक क्रिया' युक्त वाक्यांश चुनकर उक्त वाक्य पूर्ण करें-

- Ans A. हल चलाया
 B. खुदाई कर डाली
 C. धान रोपवाया
 D. दखल देना चाहा

INDIA

Question ID : 630680180229
Status : Answered
Chosen Option : C

Q.18 निम्नलिखित वाक्य के किस शब्द की वर्तनी में सन्धि-सम्बन्धी अशुद्धि है?
'कृपया उपरोक्त विचारों पर हस्तक्षेप करें और निरपेक्ष होकर बात करें।'

- Ans A. उपरोक्त
 B. कृपया
 C. निरपेक्ष
 D. हस्तक्षेप

Question ID : 630680180213
Status : Answered
Chosen Option : A

Q.19 इस वाक्य में वर्तनी सम्बन्धी अशुद्धि है। अशुद्ध भाग का चयन करें-
'इस जनतंत्रिक देश में सभा करने से अपने विचार दूसरों तक पहुँचाये जा सकते हैं।'

- Ans
- A. अपने विचार दूसरों तक
 - B. पहुँचाये जा सकते हैं
 - C. सभा करने से
 - D. इस जनतंत्रिक देश में

Question ID : 630680180212

Status : Answered

Chosen Option : D

Q.20 'बड़े घर की हवा देना' - सही विकल्प चुनकर मुहावरे के रेखांकित अंश को प्रतिस्थापित करें-

- Ans
- A. घुड़की देना
 - B. संपत्ति देना
 - C. हवा रोकना
 - D. हवा खाना

Question ID : 630680180215

Status : Answered

Chosen Option : A

Comprehension:

निम्नलिखित गद्यांश के आधार पर दिए गए प्रश्नों के उत्तर दीजिए।

'प्रेम मार्गी शाखा के प्रमुख कवि मलिक मोहम्मद जायसी संसार से इतने विरक्त नहीं थे। वह लोक तथा परलोक दोनों की साधना चाहते थे। उन्होंने अपने 'पद्मावत' में मसनवी परंपरा के अनुकूल शेरशाह की वंदना की है, जो हुमायूँ को हराकर दिल्ली की गद्दी पर बैठा था। वह बहुत वीर योद्धा था। प्रेम की भावना बहुत प्रबल होने के कारण, उन्होंने प्रेम को ईश्वर का पीर माना। उन्होंने अलौकिक प्रेम गाथाओं के रूपक द्वारा परमार्थिक प्रेम की साधना की है। पद्मावती की प्रेम कथा, जो पृथ्वीराज रासो में वीर रस से आश्रित गौण सी है, वह जायसी के 'पद्मावत' में मुख्यतः प्राप्त होती है। पद्मावत में कथा भी है और रूपक के द्वारा अलौकिक तत्वों की व्यंजना भी है। जायसी भारतीय संस्कृति से पूर्णतः परिचित थे। थोड़े-बहुत हेर-फेर के साथ उनके काव्य में भारतीय अंतर-कथाओं और धार्मिक परंपराओं का उल्लेख हुआ है। उसमें रासो की अपेक्षा अन्विति अधिक है और आरंभ से लेकर अंत तक उनकी शैली और भाषा की एकरसता है। पद्मावत प्रबंध काव्य का एक अच्छा उदाहरण कहा जा सकता है क्योंकि इस काव्य में प्रेम पर आधारित अनेक लोगों की कथाओं का वर्णन किया गया है।'

SubQuestion No : 21

Q.21 दिए गए गद्यांश से मूलतः क्या जानकारी मिलती है?

- Ans
- A. जायसी का 'पद्मावत', पृथ्वीराज रासो की तरह प्रेम काव्य है और दोनों की तुलना की जा सकती है
 - B. जायसी का 'पद्मावत', शेरशाह की वंदना और पद्मावती की प्रेम कथा के माध्यम से अलौकिक प्रेम गाथाओं के रूपक द्वारा परमार्थिक प्रेम की साधना का महाकाव्य है
 - C. जायसी एक महान कवि थे जो शेरशाह के यहाँ काव्य रचना किया करते थे
 - D. शेरशाह की वंदना का ग्रन्थ है जिसमें अनेक लोगों ने कवितार्यें लिखी हैं

Question ID : 630680180234

Status : Answered

Chosen Option : B

Comprehension:

निम्नलिखित गद्यांश के आधार पर दिए गए प्रश्नों के उत्तर दीजिए।

‘प्रेम मार्गी शाखा के प्रमुख कवि मलिक मोहम्मद जायसी संसार से इतने विरक्त नहीं थे। वह लोक तथा परलोक दोनों की साधना चाहते थे। उन्होंने अपने ‘पद्मावत’ में मसनवी परंपरा के अनुकूल शेरशाह की वंदना की है, जो हुमायूँ को हराकर दिल्ली की गद्दी पर बैठा था। वह बहुत वीर योद्धा था। प्रेम की भावना बहुत प्रबल होने के कारण, उन्होंने प्रेम को ईश्वर का पीर माना। उन्होंने अलौकिक प्रेम गाथाओं के रूपक द्वारा परमार्थिक प्रेम की साधना की है। पद्मावती की प्रेम कथा, जो पृथ्वीराज रासो में वीर रस से आश्रित गौण सी है, वह जायसी के ‘पद्मावत’ में मुख्यतः प्राप्त होती है। पद्मावत में कथा भी है और रूपक के द्वारा अलौकिक तत्वों की व्यंजना भी है। जायसी भारतीय संस्कृति से पूर्णतः परिचित थे। थोड़े-बहुत हेर-फेर के साथ उनके काव्य में भारतीय अंतर-कथाओं और धार्मिक परंपराओं का उल्लेख हुआ है। उसमें रासो की अपेक्षा अन्विति अधिक है और आरंभ से लेकर अंत तक उनकी शैली और भाषा की एकरसता है। पद्मावत प्रबंध काव्य का एक अच्छा उदाहरण कहा जा सकता है क्योंकि इस काव्य में प्रेम पर आधारित अनेक लोगों की कथाओं का वर्णन किया गया है।’

SubQuestion No : 22

Q.22 ‘प्रमुख’ शब्द के विपरीतार्थी विकल्प का चयन करें-

- Ans A. अनुपयुक्त
 B. अप्रसिद्ध
 C. गौण
 D. निष्प्रभावी

Question ID : 630680180231

Status : Answered

Chosen Option : C

Comprehension:

निम्नलिखित गद्यांश के आधार पर दिए गए प्रश्नों के उत्तर दीजिए।

‘प्रेम मार्गी शाखा के प्रमुख कवि मलिक मोहम्मद जायसी संसार से इतने विरक्त नहीं थे। वह लोक तथा परलोक दोनों की साधना चाहते थे। उन्होंने अपने ‘पद्मावत’ में मसनवी परंपरा के अनुकूल शेरशाह की वंदना की है, जो हुमायूँ को हराकर दिल्ली की गद्दी पर बैठा था। वह बहुत वीर योद्धा था। प्रेम की भावना बहुत प्रबल होने के कारण, उन्होंने प्रेम को ईश्वर का पीर माना। उन्होंने अलौकिक प्रेम गाथाओं के रूपक द्वारा परमार्थिक प्रेम की साधना की है। पद्मावती की प्रेम कथा, जो पृथ्वीराज रासो में वीर रस से आश्रित गौण सी है, वह जायसी के ‘पद्मावत’ में मुख्यतः प्राप्त होती है। पद्मावत में कथा भी है और रूपक के द्वारा अलौकिक तत्वों की व्यंजना भी है। जायसी भारतीय संस्कृति से पूर्णतः परिचित थे। थोड़े-बहुत हेर-फेर के साथ उनके काव्य में भारतीय अंतर-कथाओं और धार्मिक परंपराओं का उल्लेख हुआ है। उसमें रासो की अपेक्षा अन्विति अधिक है और आरंभ से लेकर अंत तक उनकी शैली और भाषा की एकरसता है। पद्मावत प्रबंध काव्य का एक अच्छा उदाहरण कहा जा सकता है क्योंकि इस काव्य में प्रेम पर आधारित अनेक लोगों की कथाओं का वर्णन किया गया है।’

SubQuestion No : 23

Q.23 गद्यांश की भाषा किस प्रकार की है?

- Ans A. सरल किन्तु संस्कृत के तत्सम शब्दों से युक्त खड़ीबोली है
 B. खिचड़ी भाषा है जिसमें अनेक भाषाओं के शब्दों का मेल है
 C. संस्कृत है किन्तु तद्भव शब्द अधिक हैं
 D. क्लिष्ट है जो समझ में नहीं आती

Question ID : 630680180235

Status : Answered

Chosen Option : A

Comprehension:

निम्नलिखित गद्यांश के आधार पर दिए गए प्रश्नों के उत्तर दीजिए।

‘प्रेम मार्गी शाखा के प्रमुख कवि मलिक मोहम्मद जायसी संसार से इतने विरक्त नहीं थे। वह लोक तथा परलोक दोनों की साधना चाहते थे। उन्होंने अपने ‘पद्मावत’ में मसनवी परंपरा के अनुकूल शेरशाह की वंदना की है, जो हुमायूँ को हराकर दिल्ली की गद्दी पर बैठा था। वह बहुत वीर योद्धा था। प्रेम की भावना बहुत प्रबल होने के कारण, उन्होंने प्रेम को ईश्वर का पीर माना। उन्होंने अलौकिक प्रेम गाथाओं के रूपक द्वारा परमार्थिक प्रेम की साधना की है। पद्मावती की प्रेम कथा, जो पृथ्वीराज रासो में वीर रस से आश्रित गौण सी है, वह जायसी के ‘पद्मावत’ में मुख्यतः प्राप्त होती है। पद्मावत में कथा भी है और रूपक के द्वारा अलौकिक तत्वों की व्यंजना भी है। जायसी भारतीय संस्कृति से पूर्णतः परिचित थे। थोड़े-बहुत हेर-फेर के साथ उनके काव्य में भारतीय अंतर-कथाओं और धार्मिक परंपराओं का उल्लेख हुआ है। उसमें रासो की अपेक्षा अन्विति अधिक है और आरंभ से लेकर अंत तक उनकी शैली और भाषा की एकरसता है। पद्मावत प्रबंध काव्य का एक अच्छा उदाहरण कहा जा सकता है क्योंकि इस काव्य में प्रेम पर आधारित अनेक लोगों की कथाओं का वर्णन किया गया है।’

SubQuestion No : 24

Q.24 निम्न में से कौन सा शब्द ‘अलौकिक’ का अर्थ नहीं है?

- Ans A. अतिसुन्दर
 B. अपार्थिव
 C. अनृत
 D. अपूर्व

Question ID : 630680180232

Status : Answered

Chosen Option : C

Comprehension:

निम्नलिखित गद्यांश के आधार पर दिए गए प्रश्नों के उत्तर दीजिए।

‘प्रेम मार्गी शाखा के प्रमुख कवि मलिक मोहम्मद जायसी संसार से इतने विरक्त नहीं थे। वह लोक तथा परलोक दोनों की साधना चाहते थे। उन्होंने अपने ‘पद्मावत’ में मसनवी परंपरा के अनुकूल शेरशाह की वंदना की है, जो हुमायूँ को हराकर दिल्ली की गद्दी पर बैठा था। वह बहुत वीर योद्धा था। प्रेम की भावना बहुत प्रबल होने के कारण, उन्होंने प्रेम को ईश्वर का पीर माना। उन्होंने अलौकिक प्रेम गाथाओं के रूपक द्वारा परमार्थिक प्रेम की साधना की है। पद्मावती की प्रेम कथा, जो पृथ्वीराज रासो में वीर रस से आश्रित गौण सी है, वह जायसी के ‘पद्मावत’ में मुख्यतः प्राप्त होती है। पद्मावत में कथा भी है और रूपक के द्वारा अलौकिक तत्वों की व्यंजना भी है। जायसी भारतीय संस्कृति से पूर्णतः परिचित थे। थोड़े-बहुत हेर-फेर के साथ उनके काव्य में भारतीय अंतर-कथाओं और धार्मिक परंपराओं का उल्लेख हुआ है। उसमें रासो की अपेक्षा अन्विति अधिक है और आरंभ से लेकर अंत तक उनकी शैली और भाषा की एकरसता है। पद्मावत प्रबंध काव्य का एक अच्छा उदाहरण कहा जा सकता है क्योंकि इस काव्य में प्रेम पर आधारित अनेक लोगों की कथाओं का वर्णन किया गया है।’

SubQuestion No : 25

Q.25 दिए गए गद्य-खंड का सर्वाधिक उपयुक्त शीर्षक क्या हो सकता है?

- Ans A. जायसी और पद्मावत
 B. जायसी और पृथ्वीराज रासो
 C. एक महाकाव्य
 D. मलिक मोहम्मद जायसी

Question ID : 630680180233

Status : Answered

Chosen Option : A

Q.1 Select the most appropriate option to fill in the blanks.
At a recent function, the Chief Justice of India spoke of the need towards making Supreme Court judgements ____ in regional languages. He also ____ the use of technology for it.

- Ans
- A. accessible; reminded
 - B. obtained; hinted
 - C. offered; implied
 - D. available; suggested

Question ID : 630680180247
Status : Not Answered
Chosen Option : --

Q.2 Select the most appropriate synonym of the given word.
Conscious

- Ans
- A. Cognisant
 - B. Sensitive
 - C. Perspective
 - D. Intentional

Question ID : 630680180238
Status : Not Answered
Chosen Option : --

Q.3 Sentences of a paragraph are given below in jumbled order. Arrange the sentences in the correct order to form a meaningful and coherent paragraph.
A. Such transformations are threatening the entire species of plants and animals.
B. Forests are drying up, there is less rainfall and more fires and the glaciers of both the North and South Poles are shrinking.
C. The consequences of climate change affect all of us, but in order to react and adapt to it, we must first understand it.
D. Our planet is struggling to keep up with increases in the average global temperature and the frequency of extreme weather events transforming ecosystems around the world.

- Ans
- A. BDCA
 - B. CDBA
 - C. DCAB
 - D. DABC

Question ID : 630680180245
Status : Not Answered
Chosen Option : --

Q.4 Select the most appropriate homonyms to fill in the blanks.
Harish is quite ____ at using his mobile apps. But it is taking him time to ____ the new management practices introduced in the company.

- Ans
- A. adopt; adept
 - B. adopt; adopt
 - C. adept; adept
 - D. adept; adopt

Question ID : 630680180237
Status : Not Answered
Chosen Option : --

Q.5 Parts of the following sentence have been given as options. Select the option that contains an error. If there is no error, select 'No error'.
Their will be twenty-three tableaux in the Republic Day parade.

- Ans A. in the Republic Day parade
 B. No error
 C. twenty-three tableaux
 D. Their will be

Question ID : 630680180242
Status : Not Answered
Chosen Option : --

Q.6 Select the most appropriate ANTONYM of the given word.
Willing

- Ans A. Keen
 B. Deliberate
 C. Sharp
 D. Reluctant

Question ID : 630680180236
Status : Not Answered
Chosen Option : --

Q.7 Select the most appropriate option to fill in the blanks.
She was a curious psychological study. Early in life, she had _____ the important truth that nothing looks so like innocence as an indiscretion; by a series of reckless escapades, she had _____ all the privileges of a personality.

- Ans A. discovered; acquired
 B. determined; conquered
 C. debated; learn
 D. discerned; picked

Question ID : 630680180249
Status : Not Answered
Chosen Option : --

Q.8 Select the most appropriate option to fill in the blanks.
Once upon a time, two poor woodcutters were making their way through a great pine forest. It was winter, and a night of _____ cold. The snow lay _____ upon the ground and upon the branches of the trees.

- Ans A. bitter; thick
 B. chilling; generous
 C. shrill; copious
 D. raw; heavy

Question ID : 630680180246
Status : Not Answered
Chosen Option : --

Q.9 Select the most appropriate option to fill in the blanks.
People who are successful at losing weight permanently release all the external causes for being overweight. They accept _____ for it themselves. On the road to self-acceptance, this is a detour they cannot _____ to take.

- Ans
- A. accountability; provide
 - B. guilt; offer
 - C. responsibility; afford
 - D. obligation; allow

Question ID : 630680180248
Status : Not Answered
Chosen Option : --

Q.10 Select the most appropriate option that can substitute the underlined segment in the given sentence. If there is no need to substitute it, select 'No substitution required'.
Jack is extremely blunt; he calls a spade a tool.

- Ans
- A. calls a scoop a spade
 - B. No substitution required
 - C. calls a spade a shovel
 - D. calls a spade a spade

Question ID : 630680180239
Status : Not Answered
Chosen Option : --

Q.11 Parts of the following sentence have been given as options. Select the option that contains an error. If there is no error, select 'No error'.
Govind narrates the events that led up to the accident to the police when they arrived.

- Ans
- A. that led up to the accident
 - B. Govind narrates the events
 - C. to the police when they arrived
 - D. No error

Question ID : 630680180255
Status : Not Answered
Chosen Option : --

Q.12 Select the most appropriate option that can substitute the underlined segment in the given sentence. If there is no need to substitute it, select 'No substitution required'.
It will serve Vikas right if he fails in his attempt to take up such a challenge; imagine trying to boil the ocean; now, all the employees in the company will also have to work extra hard.

- Ans
- A. bring things to a boil
 - B. make the blood boil
 - C. No substitution required
 - D. throw boiling water

Question ID : 630680180241
Status : Not Answered
Chosen Option : --

Q.13 Select the most appropriate option that can substitute the underlined segment in the given sentence. If there is no need to substitute it, select 'No substitution required'.
You are very capable; you must not sit in the back rows in the organisation of the event.

- Ans A. look at the back
 B. take a back seat
 C. delay the arrangements
 D. No substitution required

Question ID : 630680180240
Status : Not Answered
Chosen Option : --

Q.14 Select the most appropriate option that can substitute the underlined segment in the given sentence.

To commemorate the launch of the new building by the Minister, the smooth metal plate at the entrance was embossed using printing with a stone.

- Ans A. calligraphy
 B. graphology
 C. lithography
 D. psephology

Question ID : 630680180252
Status : Not Answered
Chosen Option : --

Q.15 Sentences of a paragraph are given below in jumbled order. Arrange the sentences in the correct order to form a meaningful and coherent paragraph.

- A. Goa has daily flights, to and fro, from many cities including New Delhi, Bangalore, Mumbai, Chennai and Cochin.
B. So, you can never say no to Goa, but it does have its high and low seasons.
C. People flock here in millions from all over the world for it is freedom that Goa's sands offer.
D. Goa also has regular train services and frequent buses from Mumbai, Pune, Bangalore, Mangalore and other cities.

- Ans A. BDCA
 B. CBAD
 C. CDAB
 D. ACDB

Question ID : 630680180244
Status : Not Answered
Chosen Option : --

Q.16 Select the most appropriate option to fill in the blank.
We _____ if ever listen to the radio these days.

- Ans A. once
 B. never
 C. often
 D. seldom

Question ID : 630680180253
Status : Not Answered
Chosen Option : --

Q.17 Select the most appropriate option that can substitute the underlined segment in the given sentence.

The actor's speech to herself was superbly delivered.

- Ans
- A. lecture
 - B. soliloquy
 - C. oration
 - D. discourse

Question ID : 630680180250
Status : Not Answered
Chosen Option : --

Q.18 Parts of the following sentence have been given as options. Select the option that contains an error. If there is no error, select 'No error'.

An Indian Air Force sergeant was arrested for allegedly making a hoax bomb call to delay the departure of a train.

- Ans
- A. No error
 - B. An Indian Air Force sergeant was arrested
 - C. to delay the departure of a train
 - D. for allegedly making a hoax bomb call

Question ID : 630680180243
Status : Not Answered
Chosen Option : --

Q.19 Select the most appropriate option to fill in the blank.

Water is the most _____ solvent found on earth.

- Ans
- A. total
 - B. local
 - C. universal
 - D. entire

INDIA

Question ID : 630680180254
Status : Not Answered
Chosen Option : --

Q.20 Select the most appropriate option that can substitute the underlined word in the given sentence.

This MLA is always surrounded by flatterers.

- Ans
- A. opponents
 - B. commentators
 - C. sycophants
 - D. critics

Question ID : 630680180251
Status : Not Answered
Chosen Option : --

Comprehension:

Read the given passage and answer the questions that follow.

GHCL Foundation, a non-profit organisation, has been working towards promoting sustainable and inclusive development of communities since 2014. It is a registered charitable trust that aims to 'go beyond business interest and positively impact society and the environment'.

One of the initiatives taken by the foundation was the initiation of horticulture plantation activities. The crops planted under the initiative included primarily coconut, along with other fruits like pomegranate, anola, lemon, jamfal, sitafal, mosambi, santra, chikku, jambu, dragon fruit, ramfal, hanumanfal, grapes, apple bore and kashmiri bore, sandalwood plants (red and white), sag, borsali, bilipatra, sisam wood, ramna, black pepper, asopalav, and sopari.

The aim of the project was to increase tree canopy to improve air quality in the surroundings and help farmers to divert from ordinary field crop to horticultural crops, so that higher income could be generated. The financial benefits for the farmers from these crops were substantial as the survival rate of plants was up to 70%.

In the first year of the initiative, 247 farmers joined in and planted 11,977 units covering about 60 hectares. By year two, the number of farmers increased to 612, covering over 216 hectares of land. The sum invested was ₹19 lakh, with farmers and GHCL Foundation sharing the cost equally. Since then, the number of farmers associated with the foundation has touched 996.

The introduction of black pepper as an inter-crop in the sopari and coconut orchards has enabled farmers to cultivate crops simultaneously. Owing to the profitability and high demand of black pepper, 633 farmers from several villages have joined hands with the team and grown black pepper along with their usual crop.

SubQuestion No : 21

Q.21 Which of the following options is the most appropriate title for the passage?

- Ans A. How to increase tree canopy in summer
- B. Growing black pepper to generate income
- C. Promoting sustainable and inclusive development
- D. Horticulture plantation activities of farmers



Question ID : 630680180257

Status : Not Answered

Chosen Option : --

Comprehension:

Read the given passage and answer the questions that follow.

GHCL Foundation, a non-profit organisation, has been working towards promoting sustainable and inclusive development of communities since 2014. It is a registered charitable trust that aims to 'go beyond business interest and positively impact society and the environment'.

One of the initiatives taken by the foundation was the initiation of horticulture plantation activities. The crops planted under the initiative included primarily coconut, along with other fruits like pomegranate, anola, lemon, jamfal, sitafal, mosambi, santra, chikku, jambu, dragon fruit, ramfal, hanumanfal, grapes, apple bore and kashmiri bore, sandalwood plants (red and white), sag, borsali, bilipatra, sisam wood, ramna, black pepper, asopalav, and sopari.

The aim of the project was to increase tree canopy to improve air quality in the surroundings and help farmers to divert from ordinary field crop to horticultural crops, so that higher income could be generated. The financial benefits for the farmers from these crops were substantial as the survival rate of plants was up to 70%.

In the first year of the initiative, 247 farmers joined in and planted 11,977 units covering about 60 hectares. By year two, the number of farmers increased to 612, covering over 216 hectares of land. The sum invested was ₹19 lakh, with farmers and GHCL Foundation sharing the cost equally. Since then, the number of farmers associated with the foundation has touched 996.

The introduction of black pepper as an inter-crop in the sopari and coconut orchards has enabled farmers to cultivate crops simultaneously. Owing to the profitability and high demand of black pepper, 633 farmers from several villages have joined hands with the team and grown black pepper along with their usual crop.

SubQuestion No : 22

Q.22 The activities undertaken by the foundation are the kind that will _____.

- Ans A. meet changing needs of consumers
- B. help economic development of the country
- C. increase the GDP and GNP levels
- D. reduce farmer distress and suicides



Question ID : 630680180261

Status : Not Answered

Chosen Option : --

Comprehension:

Read the given passage and answer the questions that follow.

GHCL Foundation, a non-profit organisation, has been working towards promoting sustainable and inclusive development of communities since 2014. It is a registered charitable trust that aims to 'go beyond business interest and positively impact society and the environment'.

One of the initiatives taken by the foundation was the initiation of horticulture plantation activities. The crops planted under the initiative included primarily coconut, along with other fruits like pomegranate, anola, lemon, jamfal, sitafal, mosambi, santra, chikku, jambu, dragon fruit, ramfal, hanumanfal, grapes, apple bore and kashmiri bore, sandalwood plants (red and white), sag, borsali, bilipatra, sisam wood, ramna, black pepper, asopalav, and sopari.

The aim of the project was to increase tree canopy to improve air quality in the surroundings and help farmers to divert from ordinary field crop to horticultural crops, so that higher income could be generated. The financial benefits for the farmers from these crops were substantial as the survival rate of plants was up to 70%.


In the first year of the initiative, 247 farmers joined in and planted 11,977 units covering about 60 hectares. By year two, the number of farmers increased to 612, covering over 216 hectares of land. The sum invested was ₹19 lakh, with farmers and GHCL Foundation sharing the cost equally. Since then, the number of farmers associated with the foundation has touched 996.

The introduction of black pepper as an inter-crop in the sopari and coconut orchards has enabled farmers to cultivate crops simultaneously. Owing to the profitability and high demand of black pepper, 633 farmers from several villages have joined hands with the team and grown black pepper along with their usual crop.

SubQuestion No : 23

Q.23 How many farmers joined the initiative of the foundation?

- Ans A. 633
 B. 996
 C. 247
 D. 612



Question ID : 630680180258

Status : Not Answered

Chosen Option : --

Comprehension:

Read the given passage and answer the questions that follow.

GHCL Foundation, a non-profit organisation, has been working towards promoting sustainable and inclusive development of communities since 2014. It is a registered charitable trust that aims to 'go beyond business interest and positively impact society and the environment'. One of the initiatives taken by the foundation was the initiation of horticulture plantation activities. The crops planted under the initiative included primarily coconut, along with other fruits like pomegranate, anola, lemon, jamfal, sitafal, mosambi, santra, chikku, jambu, dragon fruit, ramfal, hanumanfal, grapes, apple bore and kashmiri bore, sandalwood plants (red and white), sag, borsali, bilipatra, sisam wood, ramna, black pepper, asopalav, and sopari. The aim of the project was to increase tree canopy to improve air quality in the surroundings and help farmers to divert from ordinary field crop to horticultural crops, so that higher income could be generated. The financial benefits for the farmers from these crops were substantial as the survival rate of plants was up to 70%. In the first year of the initiative, 247 farmers joined in and planted 11,977 units covering about 60 hectares. By year two, the number of farmers increased to 612, covering over 216 hectares of land. The sum invested was ₹19 lakh, with farmers and GHCL Foundation sharing the cost equally. Since then, the number of farmers associated with the foundation has touched 996. The introduction of black pepper as an inter-crop in the sopari and coconut orchards has enabled farmers to cultivate crops simultaneously. Owing to the profitability and high demand of black pepper, 633 farmers from several villages have joined hands with the team and grown black pepper along with their usual crop.

SubQuestion No : 24

Q.24 Which of the following can be inferred from reading this passage?

- Ans
- A. Foundation was trying to make its own profits
 - B. Introduction of inter-crops made farming more sustainable
 - C. Farmers contributed very little financially towards the project
 - D. The survival rates of plants increased only very slightly



Question ID : 630680180259

Status : Not Answered

Chosen Option : --

Comprehension:


Read the given passage and answer the questions that follow.

GHCL Foundation, a non-profit organisation, has been working towards promoting sustainable and inclusive development of communities since 2014. It is a registered charitable trust that aims to 'go beyond business interest and positively impact society and the environment'. One of the initiatives taken by the foundation was the initiation of horticulture plantation activities. The crops planted under the initiative included primarily coconut, along with other fruits like pomegranate, anola, lemon, jamfal, sitafal, mosambi, santra, chikku, jambu, dragon fruit, ramfal, hanumanfal, grapes, apple bore and kashmiri bore, sandalwood plants (red and white), sag, borsali, bilipatra, sisam wood, ramna, black pepper, asopalav, and sopari. The aim of the project was to increase tree canopy to improve air quality in the surroundings and help farmers to divert from ordinary field crop to horticultural crops, so that higher income could be generated. The financial benefits for the farmers from these crops were substantial as the survival rate of plants was up to 70%. In the first year of the initiative, 247 farmers joined in and planted 11,977 units covering about 60 hectares. By year two, the number of farmers increased to 612, covering over 216 hectares of land. The sum invested was ₹19 lakh, with farmers and GHCL Foundation sharing the cost equally. Since then, the number of farmers associated with the foundation has touched 996. The introduction of black pepper as an inter-crop in the sopari and coconut orchards has enabled farmers to cultivate crops simultaneously. Owing to the profitability and high demand of black pepper, 633 farmers from several villages have joined hands with the team and grown black pepper along with their usual crop.

SubQuestion No : 25

Q.25 What is the most appropriate ANTONYM of the word 'inclusive' as used in the passage.

- Ans
- A. Widened
 - B. Comprehensive
 - C. Tapered
 - D. Restricted



Question ID : 630680180260

Status : Not Answered

Chosen Option : --

Section : General Aptitude

Q.1 सैय्यद राजवंश के शासकों के संबंध में निम्नलिखित में से कौन सा सही है?

- I. मुबारक शाह ने तारीख-ए-मुबारक शाही के लेखक बाहिया बिन अहमद सरहिंद का संरक्षण किया था।
- II. मुहम्मद शाह ने मालवा के शासक को हराने में मदद के लिए बहलोल लोदी को खान-ए-खाना की उपाधि से सम्मानित किया था।
- III. अला-उद्-दीन शाह मुल्तान का गवर्नर था और 1414 AD. में उसने दिल्ली सल्तनत की गद्दी पर अधिकार कर लिया था।

- Ans
- A. केवल I और II
 - B. केवल I और III
 - C. I, II और III
 - D. केवल II और III

Question ID : 630680180271

Status : Answered

Chosen Option : B

Q.2 शास्त्रीय कर्नाटक संगीत में अलंकारों की कुल संख्या कितनी है?

- Ans
- A. 27
 - B. 33
 - C. 20
 - D. 35

Question ID : 630680180276
Status : Answered
Chosen Option : B

Q.3 भारत सरकार, खान मंत्रालय की वार्षिक रिपोर्ट 2021-22 के अनुसार भारत के इन राज्यों में से कौन सा राज्य 2020-21 में भारत में क्रोमाइट का सबसे बड़ा और लगभग एकमात्र उत्पादक था।

- Ans
- A. महाराष्ट्र
 - B. मध्य प्रदेश
 - C. आंध्र प्रदेश
 - D. ओडिशा

Question ID : 630680180282
Status : Answered
Chosen Option : D

Q.4 निम्नलिखित में से किस विकल्प में रेलवे जोन का अपने मुख्यालय के साथ गलत मिलान है?

- Ans
- A. पूर्वी तट - गोरखपुर
 - B. पूर्व मध्य - हाजीपुर
 - C. उत्तर मध्य - इलाहाबाद
 - D. मध्य - मुंबई सीएसटी

INDIA

Question ID : 630680180285
Status : Answered
Chosen Option : D

Q.5 _____ एक भुगतान है जो किया गया है लेकिन उपयुक्त खाते में जमा नहीं किया गया है।

- Ans
- A. लापता भुगतान
 - B. ग्रहणाधिकार भुगतान
 - C. जाली भुगतान
 - D. विदेशी भुगतान

Question ID : 630680180279
Status : Answered
Chosen Option : C

Q.6 निम्नलिखित में से कौन-सी बराक नदी की सहायक नदियाँ हैं?

- Ans A. मालप्रभा, चिरी और मोधुरा (Malaprabha, Chiri and Modhura)
 B. सोनाई, रुकनी और सिंगला (Sonai, Rukni and Singla)
 C. कटखल और भीमा (Katakhal and Bhima)
 D. लोंगई, जिरी और मूसी (Longai, Jiri and Musi)

Question ID : 630680180283

Status : Answered

Chosen Option : B

Q.7 'ममिता' _____ के कलोई समुदाय का एक लोकप्रिय नृत्य है।

- Ans A. सिक्किम
 B. त्रिपुरा
 C. मेघालय
 D. मणिपुर

Question ID : 630680180275

Status : Answered

Chosen Option : D

Q.8 _____ को आमतौर पर समुद्री अखरोट या कंघी जेली के रूप में जाना जाता है।

- Ans A. टेनोफोर्स (Ctenophores)
 B. पोरिफेरा (Porifera)
 C. एनेलिडा (Annelida)
 D. सीलेंटरेटा (Cnidaria)

Question ID : 630680180286

Status : Answered

Chosen Option : A

Q.9 2011 की जनगणना के अनुसार किस राज्य की साक्षरता दर सबसे कम है?

- Ans A. झारखंड
 B. बिहार
 C. राजस्थान
 D. हिमाचल प्रदेश

Question ID : 630680180284

Status : Answered

Chosen Option : B

Q.10 राष्ट्रीय वायु खेल नीति (NASP) 2022 के प्रमुख उद्देश्य निम्नलिखित में से कौन से हैं?

- I. हवाई खेल के बुनियादी ढांचे, उपकरण, संचालन, रखरखाव और प्रशिक्षण सहित, लेकिन इन तक सीमित नहीं, सुरक्षा में अंतरराष्ट्रीय उत्तम प्रथाओं को अपनाने में सक्षम बनाता है
- II. एक सरल, हितधारक के अनुकूल और प्रभावी शासन संरचना का विकास करना
- III. वैश्विक हवाई खेल आयोजनों में भारतीय खिलाड़ियों की भागीदारी और सफलता को बढ़ाना
- VI. आत्मनिर्भर भारत अभियान के अनुरूप भारत में हवाई खेल उपकरणों के डिजाइन, विकास और निर्माण को बढ़ावा देना

- Ans
- A. I, II, III और IV
 - B. केवल I, II और IV
 - C. केवल III और IV
 - D. केवल I और II

Question ID : 630680180269

Status : Answered

Chosen Option : B

Q.11 निम्नलिखित में से कौन सा/से कथन सही है/हैं?

- I. शिक्षा मंत्रालय (MoE), भारत सरकार भारत में वैज्ञानिक शोध पत्रों और जर्नल प्रकाशन तक खुली पहुंच के लिए 'वन नेशन वन सब्सक्रिप्शन' (ONOS) पहल को लागू करेगी।
- II. भारत में वैज्ञानिक शोध पत्रों और जर्नल प्रकाशन के लिए ओएनओएस (ONOS) पहल का कार्यान्वयन 1 फरवरी 2023 से शुरू होगा।
- III. योजना और निष्पादन समिति (PEC) की सिफारिशों के आधार पर ओएनओएस (ONOS) के पहले चरण के लिए कोर कमेटी 100 प्रकाशकों के संसाधनों पर विचार कर रही है।

- Ans
- A. केवल II और III
 - B. केवल I
 - C. केवल I और II
 - D. केवल III

Question ID : 630680180263

Status : Answered

Chosen Option : C

Q.12 निम्नलिखित में से कौन सा जोड़ा बजट व्यय के संबंध में सही ढंग से मेल खाता है?

- I. वृद्धावस्था पेंशन, वेतन और छात्रवृत्ति पर सरकार द्वारा व्यय - राजस्व व्यय
- II. ऋणों के पुनर्भुगतान से सरकार का दायित्व कम हो जाता है - पूंजीगत व्यय
- III. सिंचाई के लिए नहरों के निर्माण पर व्यय-राजकोषीय व्यय
- IV. कानून व्यवस्था पर व्यय - योजनागत व्यय

- Ans
- A. केवल I और IV
 - B. केवल I, III और IV
 - C. केवल I, II और III
 - D. केवल I और II

Question ID : 630680180280

Status : Answered

Chosen Option : C

Q.13 अप्रैल 2022 में, ड्रीम स्पोर्ट्स फाउंडेशन (DSF) ने मैरी कॉम रीजनल बॉक्सिंग फाउंडेशन के सहयोग से _____ कार्यक्रम शुरू करने की घोषणा की।

- Ans A. ड्रीमजाब (Dreamjab)
 B. कोबॉक्साइम (Coboxime)
 C. ड्रीमकिक (Dreamkick)
 D. एलोटोड्रीम (Elotodream)

Question ID : 630680180268

Status : Answered

Chosen Option : B

Q.14 रागों के बारे में निम्नलिखित में से कौन से कथन सत्य हैं?

- I. एक राग में, मध्यम और पंचम को एक साथ हटाया जा सकता है एक राग में, मध्यम और पंचम को एक साथ छोड़ा जा सकता है।
II. एक राग में आरोही और अवरोही स्वरों का एक विशिष्ट समूह होना चाहिए।
III. एक राग में वादी, संवादी और अनुवादी स्वर होने चाहिए।
IV. हिंदुस्तानी संगीत प्रणाली में, रागों को दिन के अलग-अलग घंटों और अलग-अलग मौसमों के लिए आवंटित किया जाता है।

- Ans A. केवल I और IV
 B. केवल I, II और III
 C. केवल I, III और IV
 D. केवल II, III और IV

Question ID : 630680180278

Status : Answered

Chosen Option : C

Q.15 185 ft माप वाला वृहद् शांति स्तूप, दुनिया के विशालतम स्तूपों में से एक होने के लिए जाना जाता है। यह _____ में स्थित है।

- Ans A. मध्य प्रदेश
 B. बिहार
 C. उत्तराखंड
 D. आंध्र प्रदेश

Question ID : 630680180274

Status : Answered

Chosen Option : A

Q.16 निम्नलिखित कथनों में से कौन सा कथन सही है?

- I. भारत 1949 में साम्यवादी चीन को मान्यता देने वाला पहला गैर-साम्यवादी देश था।
II. मैकमोहन रेखा भारत और श्रीलंका के बीच सीमा रेखा है।
III. कश्मीर भारत और पाकिस्तान के बीच विवाद की जड़ है, जिसने दोनों देशों को 1947, 1965, 1971 और 1999 में खुले संघर्ष में ला दिया है।

- Ans A. I, II और III
 B. केवल I और II
 C. केवल II और III
 D. केवल I और III

Question ID : 630680180273

Status : Answered

Chosen Option : D

Q.17 निम्नलिखित में से किस आंदोलन की स्थापना 1889 में मिर्जा गुलाम अहमद ने की थी?

- Ans A. अलीगढ़ आंदोलन
 B. थियोसोफिकल आंदोलन
 C. अहमदिया आंदोलन
 D. फ़राज़ी आंदोलन

Question ID : 630680180272

Status : Answered

Chosen Option : C

Q.18 भारत का वैश्विक भुखमरी सूचकांक (GHI) स्कोर जो 2014 में 28.2 था, 2022 में उससे बढ़कर ____ हो गया।

- Ans A. 36.3
 B. 35.1
 C. 39.1
 D. 29.1

Question ID : 630680180264

Status : Answered

Chosen Option : C

Q.19 परियोजना स्वीकृति बोर्ड (PAB) द्वारा जारी आंकड़ों के अनुसार, कई राज्यों में 2020-21 में माध्यमिक स्तर की शिक्षा में ड्रॉपआउट दर नीचे दी गई है। राज्य के साथ ड्रॉपआउट दर के सही मिलान वाले विकल्प की पहचान करें।

- I. गुजरात - 23.3 प्रतिशत
II. बिहार - 16.6 प्रतिशत
III. मध्य प्रदेश - 23.8 प्रतिशत
VI. कर्नाटक - 21.4 प्रतिशत
V. झारखंड - 16.6 प्रतिशत

- Ans A. केवल II, III और V
 B. केवल II, IV और V
 C. केवल I, III और V
 D. केवल I, II और IV

Question ID : 630680180266

Status : Answered

Chosen Option : B

Q.20 WAMSI का पूर्ण रूप क्या है?

- Ans A. Waqf Association for Muslims Safety in India (भारत में मुस्लिम सुरक्षा के लिए वक्फ एसोसिएशन)
 B. Waqf Administrative and Management Services of India (भारत की वक्फ प्रशासनिक और प्रबंधन सेवाएं)
 C. Waqf Assets Management System of India (भारत की वक्फ संपत्ति प्रबंधन प्रणाली)
 D. Waqf Assets Management and System of Information-monitoring (वक्फ संपत्ति प्रबंधन और सूचना-निगरानी की प्रणाली)

Question ID : 630680180265

Status : Answered

Chosen Option : A

Q.21 निगारखाना (painting workshop) की स्थापना किसने की थी?

- Ans A. शाहजहाँ
 B. हुमायूँ
 C. बाबर
 D. अकबर

Question ID : 630680180270
Status : Answered
Chosen Option : A

Q.22 2021/2022 मानव विकास रिपोर्ट का केंद्रीय संदेश नई अनिश्चितताओं को खतरे से अवसर में बदलना है। ऐसा करने के लिए, हमें स्मार्ट, व्यावहारिक नीतियों को लागू करना चाहिए जो तीन 'I's पर ध्यान केंद्रित करती हैं। निम्नलिखित में से किस विकल्प में वे तीन 'I's हैं?

- Ans A. निवेश, जांच, नवाचार
 B. निवेश, बीमा, सुधार
 C. प्रारंभ, बीमा, नवाचार
 D. निवेश, बीमा, नवाचार

Question ID : 630680180281
Status : Answered
Chosen Option : D

Q.23 _____ बंगाल के सबसे लोकप्रिय लोक गीतों में से एक है जो पश्चिम बंगाल और बांग्लादेश में गाया जाता है।

- Ans A. जिंदुआ
 B. सारी गाना
 C. बरई
 D. मांड

INDIA

Question ID : 630680180277
Status : Answered
Chosen Option : B

Q.24 टोक्यो 2020 में, नीरज चोपड़ा ने _____ में ओलंपिक में भारत का पहला एथलेटिक्स स्वर्ण पदक जीता था।

- Ans A. भाला फेंक
 B. चक्का फेंक
 C. घन फेंक
 D. गोला फेंक

Question ID : 630680180267
Status : Answered
Chosen Option : A

Q.25 विज्ञान और प्रौद्योगिकी मंत्रालय, भारत सरकार द्वारा वित्त पोषित अमृत ग्रैंड चैलेंज प्रोग्राम ('JAN CARE') के तहत निम्नलिखित में से किस विश्वविद्यालय के एक वैज्ञानिक को (Start-Up) के लिए अनुदान मिला है?

- Ans A. बनारस हिंदू विश्वविद्यालय
 B. दिल्ली विश्वविद्यालय
 C. जवाहरलाल नेहरू विश्वविद्यालय
 D. हैदराबाद विश्वविद्यालय

Question ID : 630680180262
Status : Answered
Chosen Option : C

Section : General Intelligence

Q.1 दिए गए विकल्पों में से उस संख्या का चयन करें जो निम्नलिखित श्रृंखला में प्रश्नवाचक चिह्न (?) को प्रतिस्थापित कर सकती है।
20, 60, 95, 125, ?

- Ans A. 140
 B. 150
 C. 130
 D. 145

Question ID : 630680180309
Status : Answered
Chosen Option : B

Q.2 चार अक्षर-समूह युग्म दिए गए हैं, जिनमें से तीन किसी प्रकार से एक समान हैं और एक असंगत है। उसका चयन करें जो असंगत है।

- Ans A. ACCEPTED : BDDFQUFE
 B. CONFUSED : DPOGVTFE
 C. BACHELOR : BADHFNPS
 D. BREAKING : CSFBLJOH

Question ID : 630680180302
Status : Answered
Chosen Option : C

Q.3 दिए गए विकल्पों में से उस संख्या का चयन करें जो निम्नलिखित श्रृंखला में प्रश्नवाचक चिह्न (?) को प्रतिस्थापित कर सकती है।
8, 20, 4, 60, 4, 150, 6, 300, 12, ?, ?

- Ans A. 450, 25
 B. 450, 18
 C. 450, 20
 D. 450, 30

Question ID : 630680180308
Status : Answered
Chosen Option : D

Q.4 निर्देश: निम्नलिखित जानकारी को ध्यानपूर्वक पढ़ें।
सुनील, समन, रेनु, राधा, गौरी और बीना नाम के छह व्यक्तियों में:
• सुनील, समन और रेनु से बड़ा है
• रेनु, राधा और गौरी से छोटी है
• बीना, राधा से बड़ी और सुनील से छोटी है
• सुनील सबसे बड़ा नहीं है और रेनु सबसे छोटी नहीं है
इनमें से सबसे बड़ा/बड़ी कौन है?

- Ans
- A. बीना
 - B. गौरी
 - C. राधा
 - D. समन

Question ID : 630680180290
Status : Answered
Chosen Option : B

Q.5 उस विकल्प का चयन करें जिसमें शब्द-युग्म वही संबंध साझा करता है जो शब्दों के दिए गए युग्मों द्वारा साझा किया गया है।
EXIT : RGVC

- Ans
- A. TRAP : ZKGI
 - B. RISE : RIVH
 - C. HUGE : VTFS
 - D. ZERO : AVIL

Question ID : 630680180299
Status : Answered
Chosen Option : A

Q.6 निम्नलिखित शब्द का दर्पण प्रतिबिम्ब क्या होगा?

Affected

Ans

- A. 
- B. 
- C. 
- D. 

Question ID : 630680180306
Status : Answered
Chosen Option : A

Q.7 एक निश्चित कूट भाषा में, "TRAVEL" को "ZQSMFW" के रूप में लिखा जाता है। उसी भाषा में "RATING" किस रूप में लिखा जाएगा?

- Ans
- A. SZQOHJ
 - B. SQZH0J
 - C. SZQJQL
 - D. SZQH0J

Question ID : 630680180295
Status : Answered
Chosen Option : D

Q.8 यदि 'M @ N' का अर्थ है कि 'M, N की बहन है',
'M # N' का अर्थ है कि 'M, N का भाई है',
'M * N' का अर्थ है कि 'M, N के पिता हैं',
'M & N' का अर्थ है कि 'M, N की मां है',
"R & T @ S * P # Q" के संबंध में R, Q से किस रूप में संबंधित है?

- Ans
- A. मां
 - B. भाई
 - C. पत्नी
 - D. दादी

Question ID : 630680180298
Status : Answered
Chosen Option : D

Q.9 दिए गए विकल्पों में से उस अक्षर-समूह का चयन करें जो निम्नलिखित श्रृंखला में प्रश्नवाचक चिह्न (?) को प्रतिस्थापित कर सकता है।
ROD, UQE, ?, AUG, DWH, GYI

- Ans
- A. XRG
 - B. XSG
 - C. XSF
 - D. XGS

Question ID : 630680180291
Status : Answered
Chosen Option : C

Q.10 निम्नलिखित समीकरण में प्रश्नवाचक चिह्न (?) के स्थान पर लगभग कितना मान आना चाहिए?
 $247.89 + 50.69 \times 37.37 \div 17.17 - 167.69 = ?$

- Ans
- A. 145
 - B. 191
 - C. 119
 - D. 211

Question ID : 630680180311
Status : Answered
Chosen Option : C

Q.11 दक्षिण की ओर अभिमुख होकर बैठे 80 विद्यार्थियों की एक पंक्ति में, कमला, राखी के बाएं से 18वें स्थान पर है। राखी पंक्ति के बाएं सिरे से 25वें स्थान पर है। पंक्ति के दाएं सिरे से कमल की स्थिति ज्ञात कीजिए।


- Ans
- A. 75वीं
 - B. 73वीं
 - C. 74वीं
 - D. 72वीं

Question ID : 630680180289

Status : Answered

Chosen Option : C

Q.12 उस विकल्प का चयन करें जिसमें दी गई आकृति सन्नहित है (घुमाव की अनुमति नहीं है)।



X

Ans

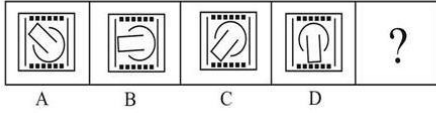
- A.
- B.
- C.
- D.

Question ID : 630680180307

Status : Answered


Chosen Option : D

Q.13 दिए गए विकल्पों में से उस आकृति का चयन करें जो नीचे दी गई श्रृंखला में प्रश्नवाचक चिह्न (?) को प्रतिस्थापित कर सकती है।



Ans

A.



B.



C.



D.



Question ID : 630680180305

Status : Answered

Chosen Option : C

Q.14 छह मित्र P, Q, R, S, T और U एक गोल मेज के परितः मेज़ के केंद्र की ओर अभिमुख होकर बैठे हैं। P, Q के बाएं से दूसरे स्थान पर बैठा है। केवल R, T और U का निकटतम पड़ोसी है। S, T के बाएं से दूसरे स्थान पर बैठा है। T और S दोनों का निकटतम पड़ोसी कौन है?

Ans A. S

B. U

C. Q

D. P

Question ID : 630680180288

Status : Answered

Chosen Option : D

Q.15 दी गई श्रृंखला में दाएं सिरे से 17वीं संख्या के बाएं से 8वीं संख्या कौन सी है?
(बाएं) 4 2 1 2 4 5 2 1 6 7 8 6 5 4 3 8 9 7 6 5 7 9 7 6 0 7 8 9 3 4 6 7 3 8 (दाएं)

- Ans
- A. 6
 - B. 8
 - C. 5
 - D. 7

Question ID : 630680180293
Status : Answered
Chosen Option : D

Q.16 एक लड़के की तस्वीर की ओर इशारा करते हुए संजय ने कहा, "वह मेरी मां के पिता के इकलौते पुत्र का पुत्र है।" तस्वीर में दर्शाए गए लड़के से संजय किस रूप में संबंधित है?

- Ans
- A. मौसी का पुत्र
 - B. चाची का पुत्र
 - C. मामा
 - D. चाचा

Question ID : 630680180297
Status : Answered
Chosen Option : C

Q.17 एक निश्चित कूट भाषा में, "ANGER" को "TGIPC" के रूप में लिखा जाता है। उसी भाषा में "ABUSE" किस रूप में लिखा जाएगा?

- Ans
- A. GUXDC
 - B. GUWEC
 - C. GUWCD
 - D. GUWDC

Question ID : 630680180294
Status : Answered
Chosen Option : D

Q.18 चार अक्षर-समूह युग्म दिए गए हैं, जिनमें से तीन किसी प्रकार से एक समान हैं और एक असंगत है। उसका चयन करें जो असंगत है।

- Ans
- A. VACATIONS : IONSTVACA
 - B. VACCINATE : NATEIVACC
 - C. EAGERNESS : NESSREAGE
 - D. FABULATED : ATEDFABUL

Question ID : 630680180301
Status : Answered
Chosen Option : D

Q.19 दिए गए शब्द "FOOTBALL" में अक्षरों के ऐसे कितने युग्म मौजूद हैं, जिनके बीच उतने ही अक्षर हैं जितने कि मानक अंग्रेजी वर्णमाला श्रृंखला में हैं (आगे और पीछे दोनों दिशाओं में गिनने पर विचार करें)?

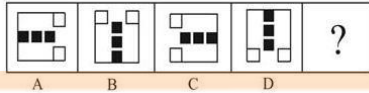
- Ans
- A. 3
 - B. 4
 - C. 1
 - D. 2

Question ID : 630680180292

Status : Answered

Chosen Option : D

Q.20 दिए गए विकल्पों में से उस आकृति का चयन करें जो नीचे दी गई श्रृंखला में प्रश्नवाचक चिह्न (?) को प्रतिस्थापित कर सकती है।



Ans

- A.
- B.
- C.
- D.

Question ID : 630680180304

Status : Answered

Chosen Option : C

Q.21 गणितीय चिह्नों के उस सही संयोजन का चयन करें जो क्रमिक रूप से * चिह्नों को प्रतिस्थापित कर सकता है और दिए गए समीकरण को संतुलित कर सकता है।
33*119*17*93*87*237

- Ans
- A. -, ÷, =, +, ×
 - B. ÷, +, =, ×, -
 - C. +, ÷, ×, -, =
 - D. ×, ÷, +, -, =

Question ID : 630680180310

Status : Answered

Chosen Option : D

Q.22 चार अक्षर-समूह युग्म दिए गए हैं, जिनमें से तीन किसी प्रकार से एक समान हैं और एक असंगत है। उसका चयन करें जो असंगत है।

- Ans
- A. CULTURE : VIFGOFX
 - B. FORTUNE : VMFGIMU
 - C. HABITAT : GZGRYZS
 - D. ICEBOAT : GZLYVXR

Question ID : 630680180303

Status : Answered

Chosen Option : B

Q.23 शाम को सूर्यास्त से पहले, श्रीमान् X दाईं ओर उस दिशा की ओर मुंह करके खड़े होते हैं, जहां उनकी छाया पड़ रही है। फिर वे दाएं मुड़ते हैं और 20 m चलते हैं। फिर वे दोबारा दाएं मुड़ते हैं और 10 m चलते हैं। फिर वे बाएं मुड़ते हैं और 10 m चलते हैं और फिर दाएं मुड़ते हैं और 20 m चलते हैं। फिर वे दोबारा दाएं मुड़ते हैं और 30 m चलते हैं। श्रीमान् X शुरुआती बिंदु से कितनी दूरी पर और किस दिशा में है?

- Ans
- A. 30 m, उत्तर
 - B. 20 m, उत्तर
 - C. 20 m, दक्षिण
 - D. 30 m, दक्षिण

Question ID : 630680180296

Status : Answered

Chosen Option : A

Q.24 सात व्यक्ति A, B, C, D, E, F और G एक सीधी रेखा में उत्तर की ओर अभिमुख होकर बैठे हैं। C, E के बाएं से तीसरे स्थान पर बैठा है। F के दाएं कोई नहीं बैठा है। A और B के बीच केवल E बैठा है। D, B और F का पड़ोसी है। बाएं सिरे पर कौन बैठा है?

- Ans
- A. G
 - B. A
 - C. C
 - D. F

Question ID : 630680180287

Status : Answered

Chosen Option : A

Q.25 चार अक्षर-समूह युग्म दिए गए हैं, जिनमें से तीन किसी प्रकार से एक समान हैं और एक असंगत है। उसका चयन करें जो असंगत है।

- Ans A. PRESSURE : ERUSSERP
 B. CONCRETE : ETECRNOC
 C. ACADEMIC : CIMEDACA
 D. HANDLING : GNILDNAH

Question ID : 630680180300
Status : Answered
Chosen Option : B

Section : Quantitative Aptitude

Q.1 यदि $\sin(A + B) = \frac{\sqrt{3}}{2}$ और $\sec(A - B) = \frac{2}{\sqrt{3}}$ है, $0^\circ < A + B \leq 90^\circ$ और $A > B$ है, तो A और B ज्ञात कीजिए।

- Ans A. A = 45° और B = 15°
 B. A = 60° और B = 30°
 C. A = 15° और B = 45°
 D. A = 30° और B = 60°

Question ID : 630680180336
Status : Answered
Chosen Option : C

Q.2 एक किरानेवाले ने अपने सामान को लागत मूल्य से x% अधिक मूल्य अंकित किया और उन्हें 20% की छूट पर बेच दिया। यदि उसे 5% लाभ प्राप्त होता है, तो x का मान ज्ञात करें।

- Ans A. 32%
 B. 33.5%
 C. 31.25%
 D. 30.15%

Question ID : 630680180322
Status : Answered
Chosen Option : C

Q.3 यदि $2y-1$ और 6 का तृतीयानुपाती 12 है तथा $2x+7$, 5 और 39 का चतुर्थानुपाती 15 है, तो $x+2y$ का मान ज्ञात कीजिए।

- Ans A. 7
 B. 5
 C. 4
 D. 3

Question ID : 630680180324
Status : Answered
Chosen Option : A

Q.4 मोहित, रोहित और आयुष एक व्यवसाय में साझेदार हैं। मोहित, जिसकी धनराशि 5 महीने के लिए व्यवसाय में निवेश की गई है, लाभ के $\frac{1}{16}$ भाग का दावा करता है। रोहित, जिसकी धनराशि 4 महीने के लिए व्यवसाय में निवेश की गई है, लाभ के $\frac{1}{9}$ भाग का दावा करता है। आयुष ने 10 महीने के लिए ₹1,537 का निवेश किया था। मोहित और रोहित ने क्रमशः कितनी धनराशि का निवेश किया?

- Ans
- A. ₹326 और ₹2,236
 - B. ₹318 और ₹2,120
 - C. ₹256 और ₹2,365
 - D. ₹659 और ₹1,896

Question ID : 630680180323

Status : Answered

Chosen Option : C

Q.5 यदि A और C एक कार्य को x दिन में कर सकते हैं, B और C इसे 40 दिन में कर सकते हैं, A और B इसे 30 दिन में कर सकते हैं, और A अकेला इसे 80 दिन में कर सकता है, तो x का मान ज्ञात कीजिए।

- Ans
- A. 60 दिन
 - B. 54 दिन
 - C. 50 दिन
 - D. 45 दिन

Question ID : 630680180328

Status : Answered

Chosen Option : A

Q.6 भिन्न ₹2.50/ ₹20 को प्रतिशत में व्यक्त करें।

- Ans
- A. $12\frac{1}{2}\%$
 - B. $33\frac{1}{3}\%$
 - C. 8%
 - D. 25%

Question ID : 630680180319

Status : Answered

Chosen Option : A

Q.7 एक ट्रेन रायपुर से आसनसोल तक x km/h की चाल से और आसनसोल से रायपुर तक 35 km/h की चाल से यात्रा करती है। यदि पूरी यात्रा की औसत चाल $29\frac{1}{6}$ km/h है, तो x का मान ज्ञात करें?

- Ans
- A. 30 km/h
 - B. 24 km/h
 - C. 20 km/h
 - D. 25 km/h

Question ID : 630680180317

Status : Answered

Chosen Option : D

Q.8 एक निश्चित यात्रा के एक-चौथाई भाग को 15 km/h की चाल से तय किया जाता है, इसके एक-छठे भाग को 40 km/h की दर से तय किया जाता है और शेष भाग को 30 km/h की चाल से तय किया जाता है। पूरी यात्रा की औसत चाल ज्ञात कीजिए।

Ans

✓ A. $24\frac{24}{29}$

✗ B. $33\frac{1}{3}$

✗ C. $25\frac{4}{7}$

✗ D. $35\frac{15}{29}$

Question ID : 630680180316

Status : Answered

Chosen Option : D

Q.9 चक्रवृद्धि ब्याज पर निवेश की गई कोई राशि 8 वर्षों में स्वयं की तिगुनी हो जाती है। कितने वर्षों में यह स्वयं की 9 गुनी हो जाएगी?

Ans

✗ A. 24 वर्ष

✗ B. 12 वर्ष

✓ C. 16 वर्ष

✗ D. 15 वर्ष

Question ID : 630680180326

Status : Answered

Chosen Option : C

Q.10 A और B की वर्तमान आयु का अनुपात 4 : 5 है, और उनकी आयु के बीच का अंतर 3 वर्ष है। A की वर्तमान आयु क्या है?

Ans

✓ A. 12 वर्ष

✗ B. 14 वर्ष

✗ C. 11 वर्ष

✗ D. 13 वर्ष

Question ID : 630680180333

Status : Answered

Chosen Option : A

Q.11 दो संख्याओं का लघुत्तम समापवर्त्य (LCM) 4640 है, और उनका महत्तम समापवर्तक (HCF) 10 है। यदि संख्याओं में से एक संख्या 290 है, तो दूसरी संख्या ज्ञात कीजिए।

Ans

✗ A. 58

✓ B. 160

✗ C. 145

✗ D. 116

Question ID : 630680180313

Status : Answered

Chosen Option : B

Q.12 किसी धनराशि पर साधारण ब्याज, मूलधन का $\frac{2}{25}$ है, और वर्षों की संख्या, वार्षिक दर प्रतिशत के 2 गुना के बराबर है। दर प्रतिशत ज्ञात कीजिए।

- Ans
- A. 1%
 - B. 2.5%
 - C. 2%
 - D. 1.5%

Question ID : 630680180325
Status : Answered
Chosen Option : C

Q.13 नीचे दी गई तालिका चार वर्षों में एक कक्षा द्वारा चार विषयों में प्राप्त उच्चतम और औसत अंकों को दर्शाती है। प्रत्येक विषय में अधिकतम अंक 100 हैं।

वर्ष	गणित		विज्ञान		सामाजिक विज्ञान		कंप्यूटर	
	अधिकतम	औसत	अधिकतम	औसत	अधिकतम	औसत	अधिकतम	औसत
2018	89	58	88	59	91	63	92	65
2019	91	63	91	63	89	59	91	69
2020	98	67	89	61	93	68	95	72
2021	95	64	95	70	95	72	98	73

माना कि वर्ष 2021 में 45 विद्यार्थी थे, तो 2021 में गणित और सामाजिक विज्ञान के अंकों का अनुपात क्या होगा?

- Ans
- A. 7:11
 - B. 8:7
 - C. 8:9
 - D. 7:5

Question ID : 630680180330
Status : Answered
Chosen Option : C

Q.14 एक लम्ब वृत्तीय शंकु का अर्ध-शीर्ष कोण (semi-vertical angle) 60° है, और इसकी तिर्यक ऊंचाई $\sqrt{3}$ cm है। शंकु की ऊंचाई और शंकु के आधार की त्रिज्या का अनुपात ज्ञात कीजिए।

- Ans
- A. $1:\sqrt{3}$
 - B. 3:2
 - C. $2:\sqrt{3}$
 - D. $\sqrt{3}:1$

Question ID : 630680180335
Status : Answered
Chosen Option : A

Q.15 एक कार्यालय में सभी कर्मचारियों का औसत वेतन ₹135 प्रति माह है। अधिकारियों का औसत वेतन ₹545 और गैर-अधिकारियों का औसत वेतन ₹129 है। यदि अधिकारियों की संख्या 15 है, तो कार्यालय में गैर-अधिकारियों की संख्या ज्ञात कीजिए।

- Ans
- A. 1135
 - B. 825
 - C. 975
 - D. 1025

Question ID : 630680180315
Status : Answered
Chosen Option : C

Q.16 एक व्यक्ति अपनी पूरी यात्रा को तीन बराबर भागों में विभाजित करता है और क्रमशः 40, x और 15 km/h की चाल से तीन भागों की यात्रा करने का निर्णय लेता है। यदि पूरी यात्रा के दौरान उसकी औसत चाल 24 km/h है, तो x का मान ज्ञात कीजिए।

- Ans
- A. 38 km/h
 - B. 35 km/h
 - C. 32 km/h
 - D. 30 km/h

Question ID : 630680180314
Status : Answered
Chosen Option : B

Q.17 एक व्यक्ति 7 ऊंट और 6 खच्चरों को ₹12,250 में खरीदता है। वह ऊंटों को 17% के लाभ पर और खच्चरों को 16% के लाभ पर बेचता है, और वह कुल ₹2,030 लाभ अर्जित करता है। उसने एक खच्चर के लिए कितना भुगतान किया?

- Ans
- A. ₹750
 - B. ₹875
 - C. ₹1,000
 - D. ₹975

Question ID : 630680180321
Status : Answered
Chosen Option : B

Q.18 समीकरण $3^{2x+1} - 3^x = 3^{x+3} - 3^2$ का मान ज्ञात कीजिए।

- Ans
- A. -1, 2
 - B. 2, 3
 - C. -1, 1
 - D. 2, -2

Question ID : 630680180332
Status : Answered
Chosen Option : A

Q.19 $15,625 \text{ m}^2$ क्षेत्रफल के एक वर्गाकार मैदान को जमीन से $3, 3\frac{1}{2}, 4\frac{3}{2}$ और $5\frac{1}{2} \text{ m}$ की ऊँचाई तक तार से घेरा जाना है। यदि तार की कुल लम्बाई 2100 m है तथा प्रत्येक घेरा, मैदान के परिमाण से $x\%$ अधिक है, तो x का मान ज्ञात कीजिए।

- Ans A. 6.12%
 B. 5%
 C. 4%
 D. 2.3%

Question ID : 630680180334

Status : Answered

Chosen Option : A

Q.20 एक वर्ष के दौरान, किसी क्षेत्र की जनसंख्या में 6% की वृद्धि हुई, लेकिन अगले वर्ष के दौरान, इसमें 6% की कमी आई। यदि दूसरे वर्ष के अंत में जनसंख्या 2491 थी, तो पहले वर्ष की शुरुआत में जनसंख्या ज्ञात कीजिए।

- Ans A. 2650
 B. 2500
 C. 2491
 D. 2530

Question ID : 630680180320

Status : Answered

Chosen Option : A

Q.21 $15 + \frac{1}{6 + \frac{1}{8 + \frac{1}{10}}}$ का मान ज्ञात कीजिए।

- Ans A. $15\frac{81}{472}$
 B. $15\frac{71}{186}$
 C. $15\frac{81}{496}$
 D. $15\frac{31}{374}$

Question ID : 630680180312

Status : Answered

Chosen Option : C

Q.22 एक व्यक्ति अपनी सामान्य चाल की $\frac{5}{7}$ चाल से चलकर अपने कार्यालय 16 मिनट देरी से पहुँचता है। उसके द्वारा दूरी को तय करने में लगाने वाला सामान्य समय ज्ञात कीजिए।

- Ans
- A. 45 मिनट
 - B. 35 मिनट
 - C. 40 मिनट
 - D. 30 मिनट

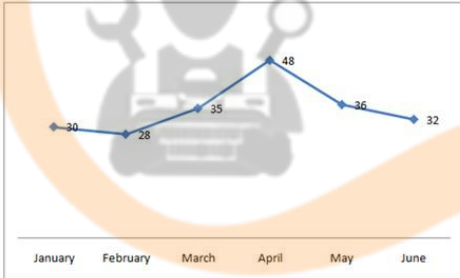
Question ID : 630680180327
Status : Answered
Chosen Option : C

Q.23 एक छात्रावास में 60 लड़कों के लिए 15 दिन के भोजन की व्यवस्था थी। यदि 5 दिन के बाद 15 लड़के और आ जाते हैं, तो बचा हुआ भोजन कितने दिनों तक चलेगा?

- Ans
- A. 12 दिन
 - B. 8 दिन
 - C. 6 दिन
 - D. 5 दिन

Question ID : 630680180329
Status : Answered
Chosen Option : B

Q.24 2020 के पहले 6 महीनों के दौरान किसी शहर में हुई दुर्घटनाओं की संख्या को दर्शाने वाला एक रेखा आरेख दिया गया है।



INDIA

January = जनवरी, February = फरवरी, March = मार्च, April = अप्रैल, May = मई, June = जून
अप्रैल से मई और मई से जून में हुई दुर्घटनाओं के कमी प्रतिशत का अनुपात क्या है?

- Ans
- A. 9:4
 - B. 9:5
 - C. 8:5
 - D. 8:7

Question ID : 630680180331
Status : Answered
Chosen Option : A

Q.25 एक प्रकार के तरल में 24% दूध है, और दूसरे तरल में 38% दूध है। एक कैन में पहले तरल के 8 भाग और दूसरे तरल के 4 भाग भरे गए हैं। नए मिश्रण में दूध का प्रतिशत ज्ञात कीजिए।

Ans

✓ A. $28\frac{2}{3}\%$

✗ B. $29\frac{5}{7}\%$

✗ C. $27\frac{5}{8}\%$

✗ D. $37\frac{3}{8}\%$

Question ID : 630680180318

Status : Answered

Chosen Option : C



INDIA